

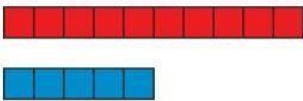



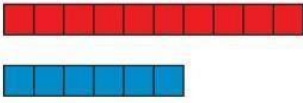



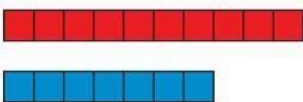



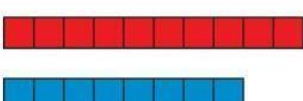






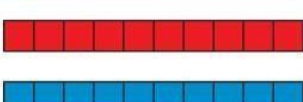


TOREK, 12.MAJ

DOBER DAN. KAKO STE, STE SE DOBRO NASPALI, KAJ LEPEGA SANJALI? PA POGLEJMO, KAJ SE BOMO DANES UČILI 😊.

MATEMATIKA – ŠTEVILA OD 15 DO 20

- DANES BOSTE SPOZNALI ŠTEVILA OD 15 DO 20.
- NAJPREJ HITRO ŠTEJ OD 1 DO 15 IN NAZAJ.
- ČE JE ŠLO, POGLEJ SPODNJI SLIKI, SICER ŠTEJ ŠE ENKRAT.

ŠTEVILA OD 10 DO 15		ŠTEVILA OD 15 DO 20	
 10		 15	
 11		 16	
 12		 17	
 13		 18	
 14		 19	
 15		 20	

SE SPOMNIŠ JAJČKOV V ŠKATLI?

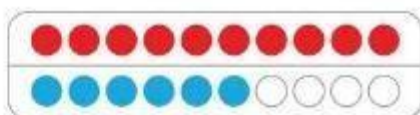
DANES JIH BOMO DODALI DO 20.

TO STA DVE POLNI ŠKATLI.


10 + 10 = 20 2 DESETICI

- V KARO ZVEZEK PREPIŠI SPODNJO SLIKO. POMEMBNO JE, DA JE PRVIH DESET KROGCEV V PRVI VRSTI RDEČIH, VSI V DRUGI VRSTI PA MODRI. VSAK KROGEC NARIŠI S PROSTO ROKO V EN KVADRATEK. NAPIŠI TUDI BESEDE.


16
ŠESTNAJST



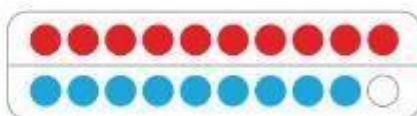
17
SEDEMNAJST




18
OSEMNAJST



19
DEVETNAJST



20
DVAJSET



-ZDAJ PA V 4. DELU DELOVNEGA ZVEZKA LILI IN BINE REŠI NALOGE NA STRANEH 14 IN 15.

ŠTEVILA OD 15 DO 20

KOLIKO KVADRATKOV JE POBARVANIH? NAPIŠI.

POBARVAJ USTREZNO ŠTEVILO KVADRATKOV.

18 16 19

NAPIŠI, KOLIKO JE DENARJA.

 <input type="text"/> €	 <input type="text"/> €	 <input type="text"/> €
 <input type="text"/> €	 <input type="text"/> €	 <input type="text"/> €

14 - MAT

ŠTEVILA DO 20

STEJ IN NAPIŠI MANJAJOČA ŠTEVILA.

MAT - 15

TO JE VSE ZA DANES. UPAM, DA TI ŠLO. LEPO
 POPOLDNE TI ŽELIM.
 UČITELJICA VESNA