

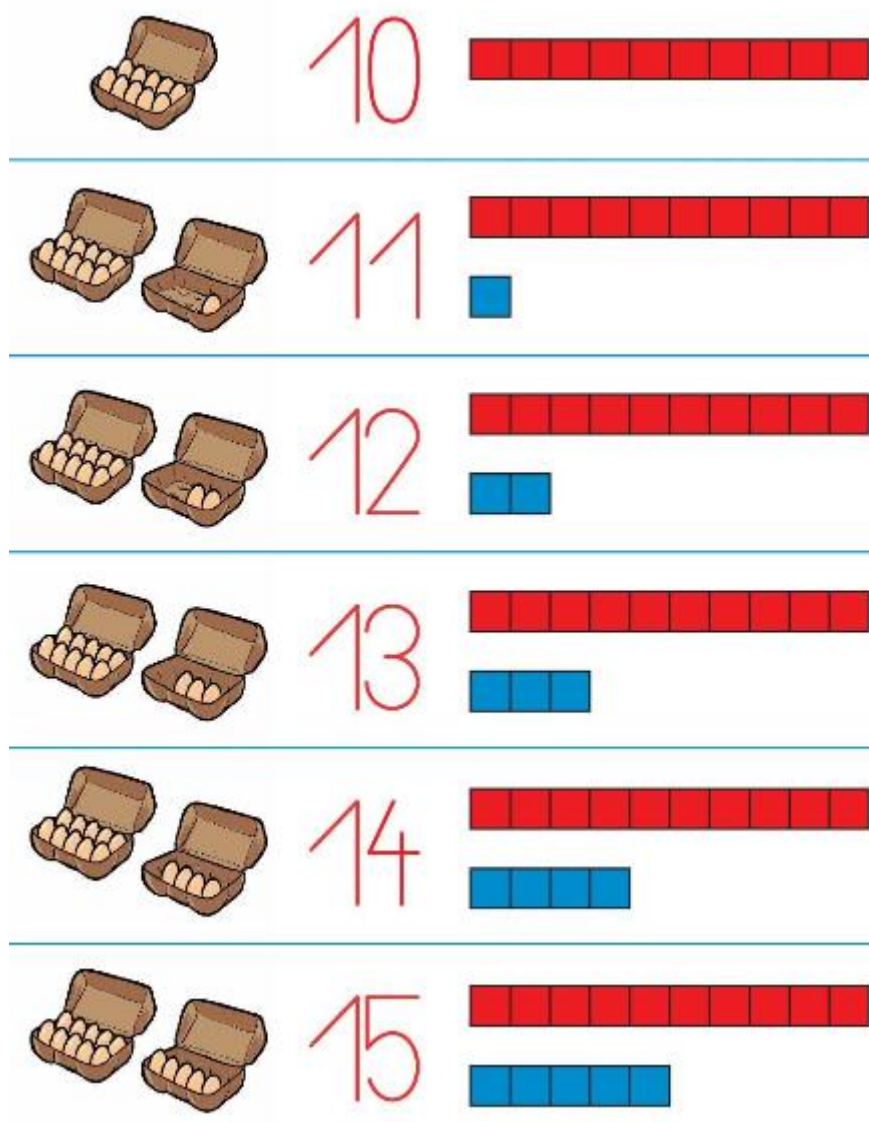
TOREK, 14. APRIL

DANES BOMO PRI MATEMATIKI NAREDILI POMEMBEN KORAK
NAPREJ: SPOZNALI BOSTE ŠTEVILA OD 11 DO 15.




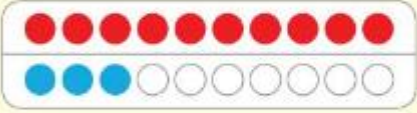


PREPRIČANA SEM, DA ŠTEVILA DO 10 ZDAJ ŽE ZELO DOBRO
POZNAŠ. ZATO HITRO ŠTEJ OD 1 DO 10 IN NAZAJ OD 10 DO 1.

ČE TI JE ŠLO BREZ NAPAK, SI OGLEJ SPODNJO SLIKO, SICER
ŠTEJ ŠE ENKRAT.

KAJ OPAZIŠ PRI ŠKATLAH Z JAJČKI?



V KARO ZVEZEK PREPIŠI NASLEDNJO SLIKO. POMEMBNO JE, DA JE PRVIH 10 KROGCEV V PRVI VRSTI RDEČIH, VSI V DRUGI VRSTI PA MODRI. VSAK KROGEC NARIŠI S PROSTO ROKO V EN KVADRATEK. NAPIŠI TUDI BESEDE.

10 DESET	
11 ENAJST	
12 DVANAJST	
13 TRINAJST	
14 ŠTIRINAJST	
15 PETNAJST	

KO KONČAŠ, SI MALO SPOČIJ, POTEM PA SE LOTI NASLEDNJE NALOGE:



V DZ LILI IN BINE 3. DEL, SI NA STRANI 60 OGLEJ
ANDRAŽEVO SOBOTNO DOPOLDNE.

ANDRAŽEVO SOBOTNO DOPOLDNE



OGLEJ SI SLIKE. OZNAČI VRSTNI RED DOGAJANJA,
PRIPOVEDUJ OB SLIKAH.



KAJ DELA ANDRAŽ NA
POSAMEZNI SLIKI?

SO SLIKE UREJENE
PRAVILNO?

KAJ JE NAREDIL

NAJPREJ,

KAJ **POTEM**

IN KAJ

NAZADNJE ?

V KVADRATEK NA VSAKI SLIKI VPIŠI MANJKAJOČE PIKE V
PRAVILNEM ZAPOREDJU.

TO JE VSE ZA DANES. LEPO SE IMEJTE!

UČITELJICA NATAŠA