

SLOVENŠČINA

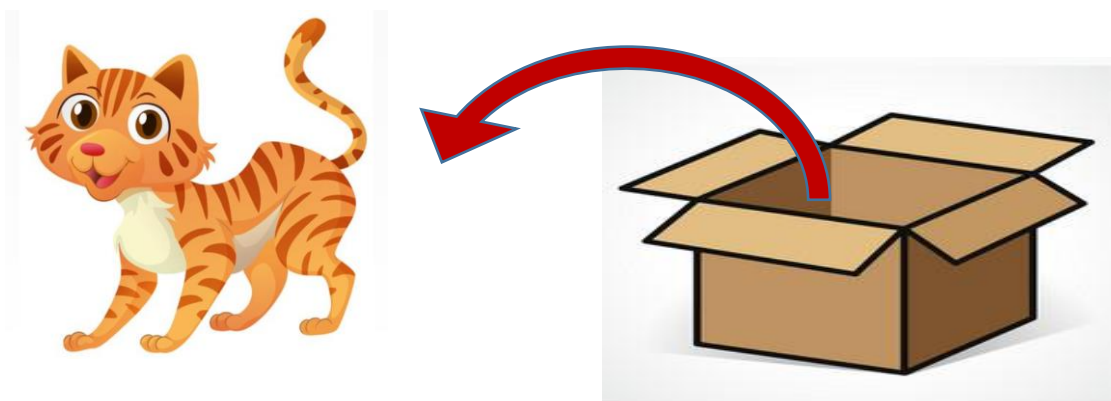
Od kod? Kje? Kam? – SDZ 2/67

- **Kje** je mačka?




Mačka je **v** škatli.

- **Od kod** je skočila mačka?




Mačka je skočila **iz** škatle.

- Kje je mačka?



Mačka je **na** strehi.

- Od kod je skočila mačka?



Mačka je skočila **s** strehe.

Uporabi nasvet: dve črki proti eni,
ena črka proti dvema!

Če sem **NA** izletu, se vračam **Z**
izleta. Če sem **V** šoli, grem **IZ** šole.

Če je banana **NA** pladnju, jo
vzamem **S** pladnja.



- Reši naloge na strani 67 v DZ.

- Ponovimo desetiške enote:

DESETIŠKE ENOTE



$$1 \text{ ENICA} = 1 \text{ E}$$

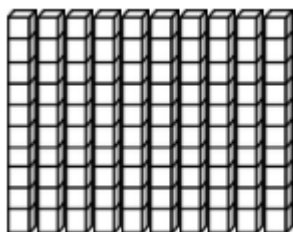


=




$$10 \text{ ENIC} = 1 \text{ DESETICA}$$

$$10 \text{ E} = 1 \text{ D}$$



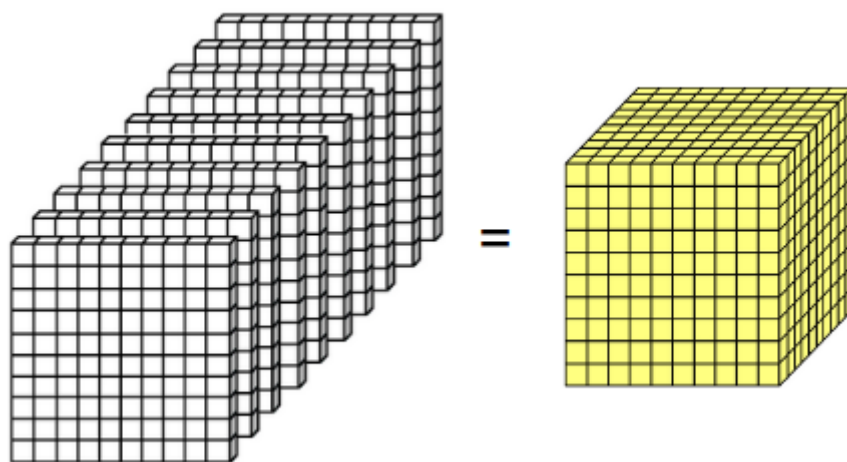
=



$$10 \text{ DESETIC} = 1 \text{ STOTICA}$$

$$10 \text{ D} = 1 \text{ S}$$

$$1 \text{ S} = 10 \text{ D} = 100 \text{ E}$$



10 STOTIC = 1 TISOČICA

10 S = 1 T

1 T = 10 S = 100 D = 1000 E

- Poglej razlago naposnetku.
- Reši naloge na strani 15 v DZ.

SPOZNAVANJE OKOLJA

Gibanje – SDZ/89

- Oglej si posnetek na:

lilibi.si -> DEŽELA LILIBI -> Mestni trg -> Spoznavanje okolja -> Jaz in narava -> Sile in gibanje -> Gibanje

🏠 / Mestni trg / Spoznavanje okolja / Jaz in narava / Sile in gibanje



SILE IN GIBANJA

 <p>Gibanje</p>	 <p>Načini gibanja</p>	 <p>Smer in hitrost</p>	 <p>Prenos gibanja</p>
--	---	---	---

GLASBENA UMETNOST

Predstavitev glasbila ali glasbene skupine

