

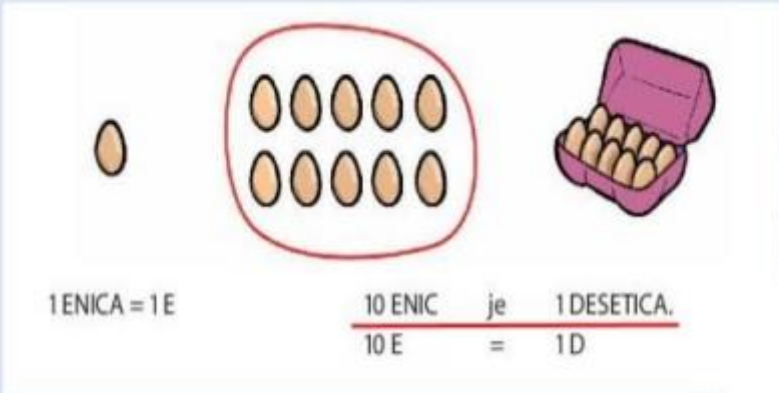
SREDA, 13. 5. 2020

MATEMATIKA

ŠTEVILA DO 1000

DZ str. 16


Natančno si oglej razlago:




1 ENICA = 1E

10 ENIC je 1 DESETICA.
10 E = 1D

Spomnimo se.













The diagram shows a single egg (1 unit), a group of 10 eggs in a red circle (10 units), and a pink egg carton (1 dozen). Below this, the text states '1 ENICA = 1E' and '10 ENIC je 1 DESETICA. 10 E = 1D'. To the right, a speech bubble says 'Spomnimo se.' and a cartoon girl is shown thinking, with a thought bubble containing a thinking emoji.




10 DESETIC je 1 STOTICA.
10 D = 1S

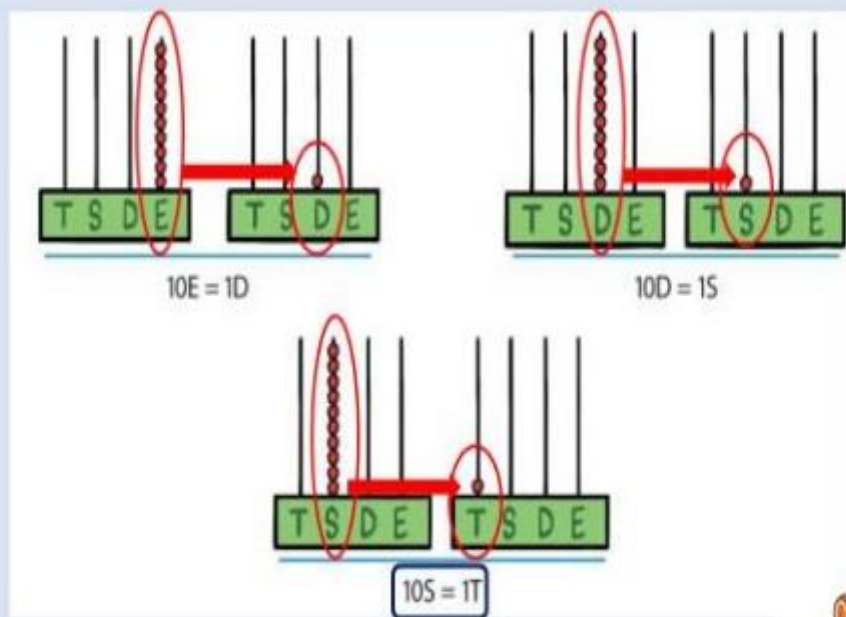
The diagram shows 10 pink egg cartons, each containing 10 eggs, and a large pink egg tray containing 100 eggs. Below this, the text states '10 DESETIC je 1 STOTICA. 10 D = 1S'.

	sto	100	15
	dvesto	200	25
	tristo	300	35
	štiristo	400	45
	petsto	500	55
	šeststo	600	65
	sedemsto	700	75
	osemsto	800	85
	devetsto	900	95
	tisoč	1000	105

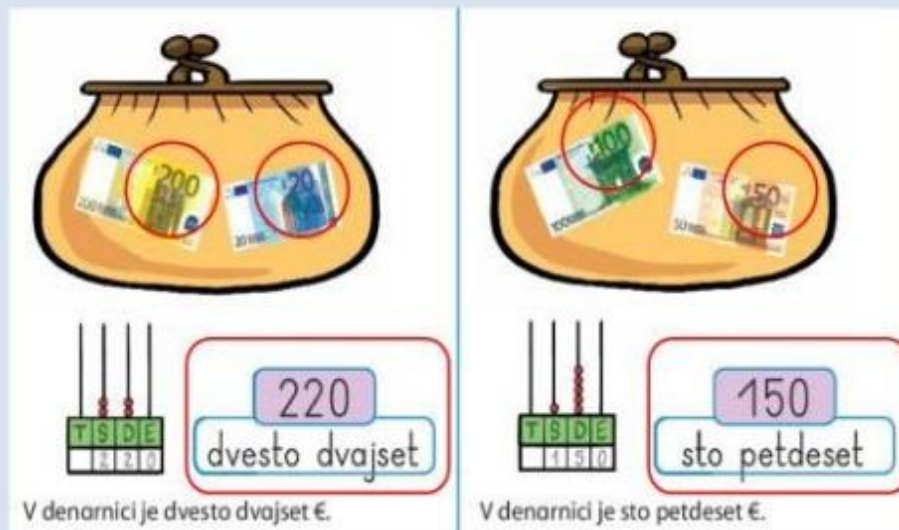
Preberimo.

10 STOTIC je 1 TISOČKA.
 $\frac{10 \text{ STOTIC}}{105} = 1 \text{ T}$



Poglejmo pozicijska računala in zapise pod njimi.



Koliko denarja je v denarnici?

Koliko je jajc?

Jajc je 420.

Pazi!

Pri zapisu števila z besedo stotice ločimo od desetice!

Tristo je iz dveh besed: tri in sto, beseda pa se piše skupaj.

300 – tristo

350 – tristo petdeset

690 – šeststo devetdeset

Zapis v zvezek:

ŠTEVILA DO 1000

1 enica = 1 E

10 E = 1 D

1 desetica = 1 D

10 D = 1 S

1 stotica = 1 S

10 S = 1 T



1 tisočica = 1 T


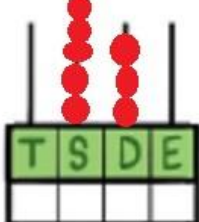
200 = dvesto = 2 S

540 = petsto štirideset = 5 S, 4 D

- Reši naloge v delovnem zvezku na strani 16.
- Preveri rešitve. Napačne rezultate popravi.

8. Dopolni.

  320
tristo dvajset

  530
petsto trideset

9. Ugotovi pravilo in nadaljuj.

200	210	220	230	240	250	260	270	280	290
-----	-----	-----	-----	-----	-----	-----	-----	-----	-----

680	670	660	650	640	630	620	610	600	590
-----	-----	-----	-----	-----	-----	-----	-----	-----	-----

10. Z rumeno barvo pobarvaj polja, v katerih so števila, manjša od 540.
Z zeleno barvo pobarvaj polja, v katerih so števila, večja od 800.

230 380 100 810 990
1000 110 750 720 880



11. Uredi števila po veliki. Začni z največjim.

520	720	630	420	110	120	→	720	630	520	420	120	110
990	100	500	560	530	350	→	990	560	530	500	350	100

- Vadi poštevanko (zapis v zvezek).

$1 \cdot 5 =$	$81 : 9 =$
$2 \cdot 3 =$	$42 : 7 =$
$3 \cdot 4 =$	$20 : 4 =$
$4 \cdot 10 =$	$5 : 1 =$
$5 \cdot 8 =$	$42 : 6 =$
$6 \cdot 2 =$	$30 : 5 =$
$7 \cdot 1 =$	$56 : 8 =$
$8 \cdot 6 =$	$18 : 2 =$
$9 \cdot 7 =$	$50 : 10 =$
$10 \cdot 9 =$	$27 : 3 =$