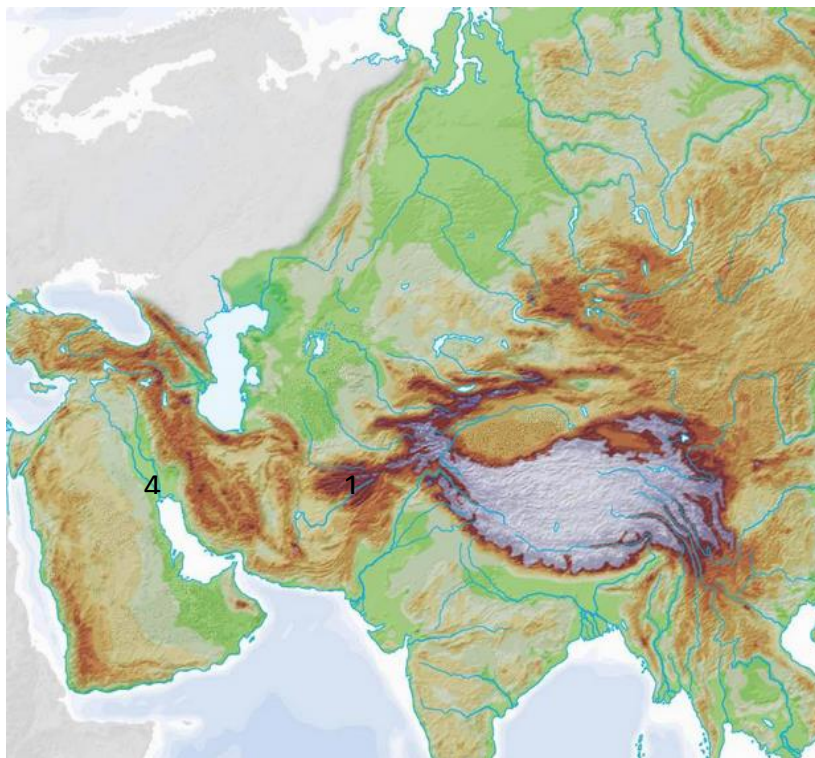


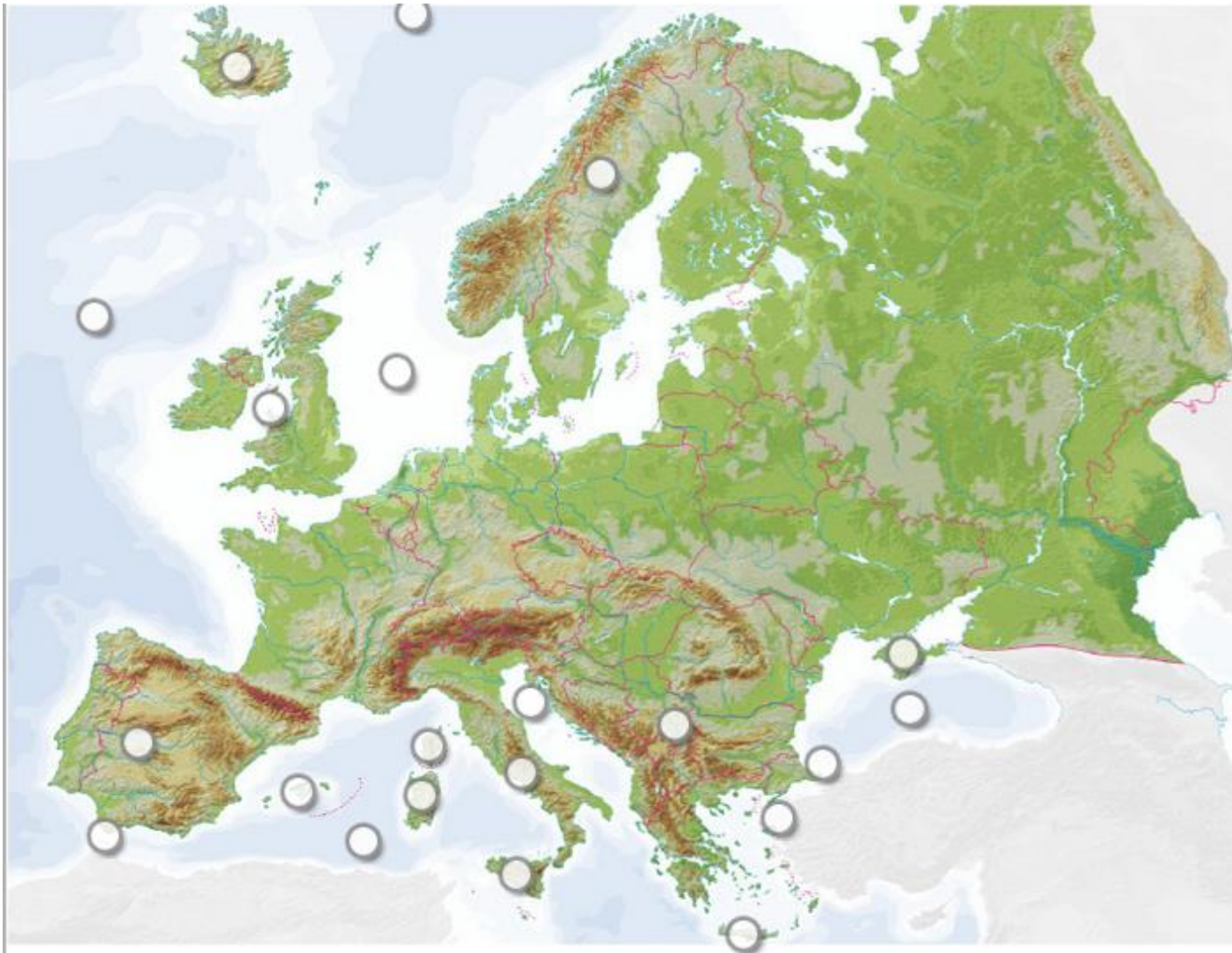
7. A, petek, 20. 3., Ponovitev Evropa in Površje Azije

Navodila:

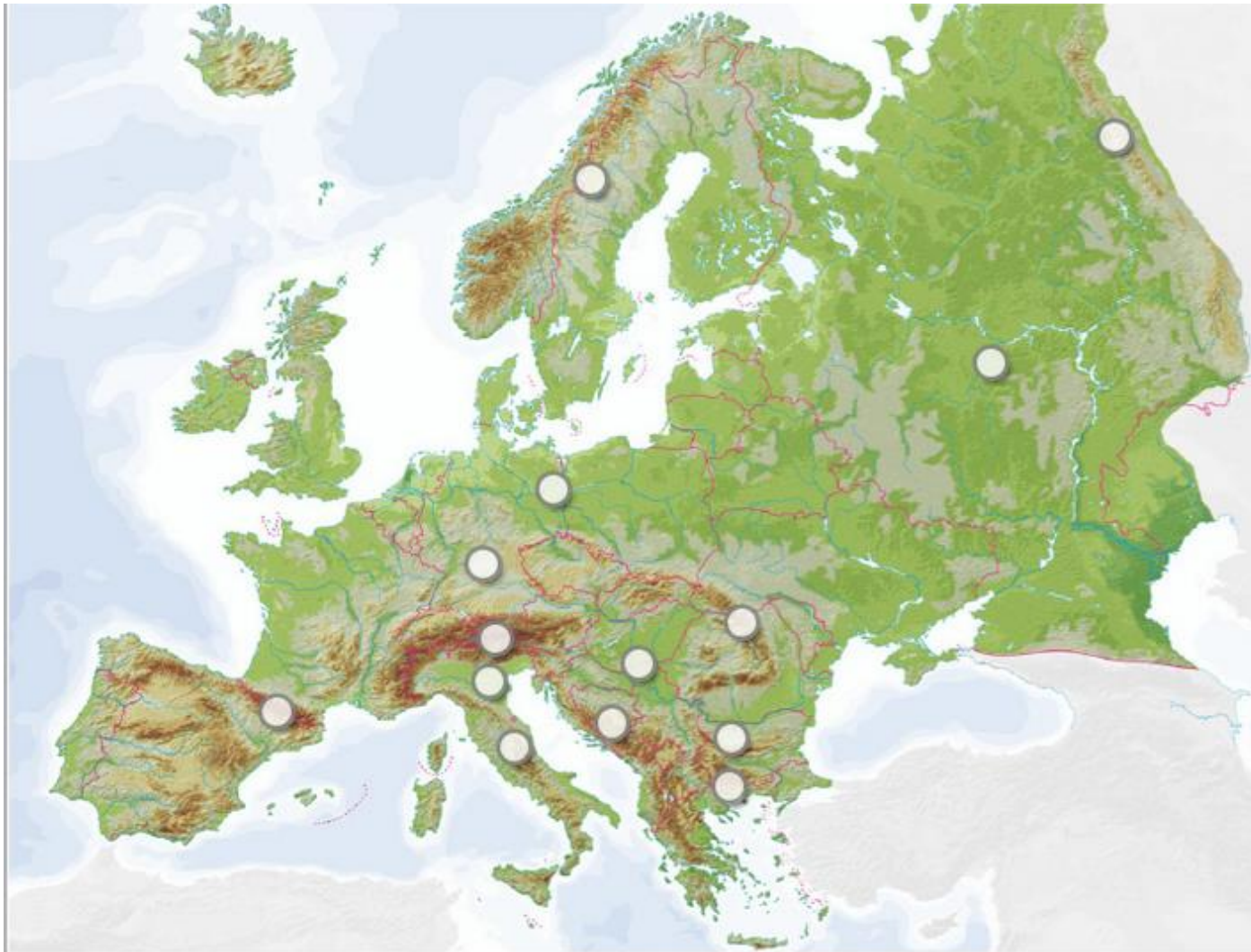
- **SDZ, str. 100**, reši kratek kviz »Evropa še enkrat na kratko«
- **SDZ, str. 108, naloga 1:** dopolni zemljevid Azije
 - Pod nalogo A) dodatno dopiši še: Južnokitajsko hribovje, Gobi, Tarim
 - Pod nalogo B) dodatno dopiši še Amur, Bra(h)maputra, Evfrat, Tigris
 - Bodi natančen in čitljiv, da ne bo zemljevid na koncu »zmazek«. Zadeve se lahko lotiš tudi tako, da pojme v nalogah A) in B) po vrsti označiš s številkami ter na zemljevid vpisuješ samo ustrezne številke.
Npr. Hindukuš 1, Mezopotamija 4 (glej spodaj)



- **SDZ, str. 109, nalogi 2 in 3.**
- Spodaj prilagam še dve vaji za ponovitev naravnih enot Evrope, saj nas ob povratku čaka še preverjanje in nato ocenjevanje iz neme karte Evrope.



Apeninski polotok	Baleari
Bospor	Gibraltarski preliv
Severno ledeno morje	Kreta
Jadransko morje	Islandija
Sardinija	Sredozemsko morje
Severno morje	Britansko otočje
Črno morje	Dardanele
Sicilija	<input type="text" value="Preveri"/>
Skandinavski polotok	
Korzika	
Pirenejski polotok	
Atlantski ocean	
Balkanski polotok	
Krim	



Panonska nižina	Balkan
Pireneji	Nemško-poljsko nižavje
Apenini	Rodopi
Ural	Skandinavsko gorstvo
Alpe	Padaska nižina
Karpati	Dinarsko gorstvo
Vzhodnoevropsko nižavje	<input type="text" value="Preveri"/>
Evropska sredogorja	