
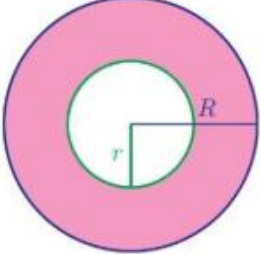



OBSEG IN PLOŠČINA KOLOBARJA

CILJ: učenec pozna pojem kolobar. izračuna obseg in ploščino kolobarja.

DZ 2.del Str. 39

 Uroš je s šestilom narisal sliko svoje najljubše sladice. Narisal je kolobar.



 Kolobar je lik, omejen z dvema krožnicama s skupnim središčem.

- Kolikšen je obseg kolobarja?

- Kolikšna je ploščina kolobarja?

Uroš je iz papirja izrezal kolobar tako, da je iz večjega kroga izrezal manjši krog. Ploščino kolobarja je izračunal tako, da je najprej izračunal ploščini obeh krogov, ki kolobar omejujeta.

Reši naloge:

82, 83, 84, 88 in 91